

**Вариант 1**  
**ЧАСТЬ А**

*Часть А содержит 18 заданий с выбором ответа. К каждому заданию даётся четыре варианта ответа, только один из которых верный. При выполнении заданий этой части в бланке ответов № 1 под номером выполняемого вами задания (А1–А18) поставьте знак «х» в клеточке, номер которой соответствует номеру выбранного вами ответа.*

**А-1. Какой материк пересекается экватором в северной части?**

- 1) Северная Америка
- 2) Южная Америка
- 3) Австралия
- 4) Евразия

**А-2. Какой из перечисленных путешественников исследовал внутренние районы Африки?**

- 1) Д. Ливингстон
- 2) Дж. Кук
- 3) А. Веспуччи
- 4) А. Макензи

**А-3. Какой материк Земли самый сухой?**

- 1) Евразия
- 2) Австралия
- 3) Африка
- 4) Южная Америка

**А-4. Относительно устойчивые и выровненные участки земной коры, лежащие в основании современных материков, - это:**

- 1) материковые отмели
- 2) платформы
- 3) сейсмические пояса
- 4) острова

**А-5. Какая из перечисленных территорий расположена в пределах сейсмического пояса?**

- 1) остров Сахалин
- 2) острова Новая Земля
- 3) полуостров Таймыр
- 4) полуостров Ямал

**А-6. Какая из перечисленных горных систем самая протяженная?**

- 1) Кордильеры
- 2) Урал
- 3) Альпы
- 4) Аппалачи

**А-7. Какой буквой на карте обозначен вулкан Килиманджаро?**



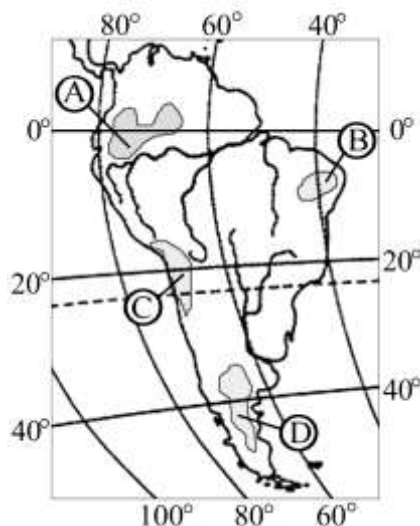
- 1) А 2) Б 3) В 4) Г

**А-8. Для какого типа климата умеренного климатического пояса характерны самые низкие зимние температуры?**

- 1) морского
- 2) умеренно- континентального
- 3) резко- континентального
- 4) муссонного

**А-9.** На какой из территорий, обозначенных буквами на карте Южной Америки, среднегодовое количество атмосферных осадков наибольшее?

- 1) А
- 2) Б
- 3) В
- 4) Г



**А-10.** Какое из перечисленных морских течений действует в Тихом океане?

- 1) Гольфстрим
- 2) Бразильское
- 3) Гвинейское
- 4) Куроисио.

**А-11.** В умеренном поясе к югу от лесной зоны расположена зона:

- 1) тайги
- 2) лесостепей и степей
- 3) лесотундр и тундр
- 4) высотной поясности

**А-12.** Соболь - животное, обитающее в природной зоне:

- 1) степей
- 2) тайги
- 3) пустынь
- 4) тундры

**А-13.** Укажите ошибку в сочетании «материк - животное».

- 1) Африка — гепард
- 2) Австралия — вомбат
- 3) Южная Америка - пума
- 4) Евразия — скунс

**А-14.** Укажите правильный вариант ответа. В Африке — вадии, а в Австралии:

- 1) пуны
- 2) крики
- 3) самум
- 4) коала

**А-15.** Какие координаты имеет самая восточная точка Африки?

- 1) 16° ю.ш.; 3° в.д.
- 2) 10° с.ш.; 51° в.д.
- 3) 51° с.ш.; 11° в.д.
- 4) 16° с.ш.; 3° з.д.

**А-16.** По карте плотности населения определите, какая из названных территорий заселена больше?

- 1) Европа;
- 2) Южная Америка;
- 3) Австралия;

4) север Африки.

**А-17. Родиной какого культурного растения является Африка?**

- 1) кофе
- 2) каучуконосов
- 3) какао
- 4) чая

**А-18. Одним из основных современных видов хозяйственной деятельности человека в тундре является:**

- 1) заготовка леса
- 2) добыча полезных ископаемых
- 3) разведение скота
- 4) выращивание зерна

## ЧАСТЬ В

*Часть В содержит 4 задания. Задания В-1, В-2 содержат по три правильных ответа. Ответом к заданиям этой части (В-3, В-14) является слово, последовательность букв или цифр. Впишите ответы сначала в текст работы, а затем перенесите их в бланк ответов № 1 справа от номера соответствующего задания, начиная с первой клеточки, без пробелов, запятых и других дополнительных символов. Каждую цифру или букву пишите в отдельной клеточке в соответствии с приведёнными в бланке образцами. Единицы измерения писать не нужно.*

**В-1. Определите, о какой природной зоне говорится:**

«Характерны желтоземные и красноземные почвы. Субтропические вечнозеленые леса и кустарники. Характерные представители животного мира: гепарды, зебры, носороги, слоны».

**В-2. Установите соответствие между строением земной коры и рельефом.**

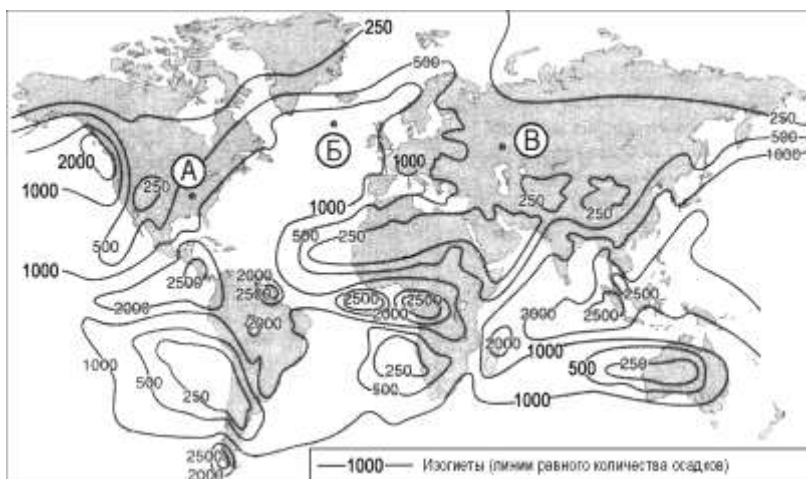
ГОРЫ

ВОЗРАСТ СКЛАДЧАТОСТИ

- 1) Гималаи
- 2) Урал
- 3) Верхоянский хребет

- А. Мезозойский
- Б. Кайнозойский
- В. Герцинский

**В-3. С помощью карты сравните среднегодовое количество осадков в точках, обозначенных на карте буквами А, Б, В. Расположите эти точки в порядке увеличения количества осадков, выпадающих в них.**



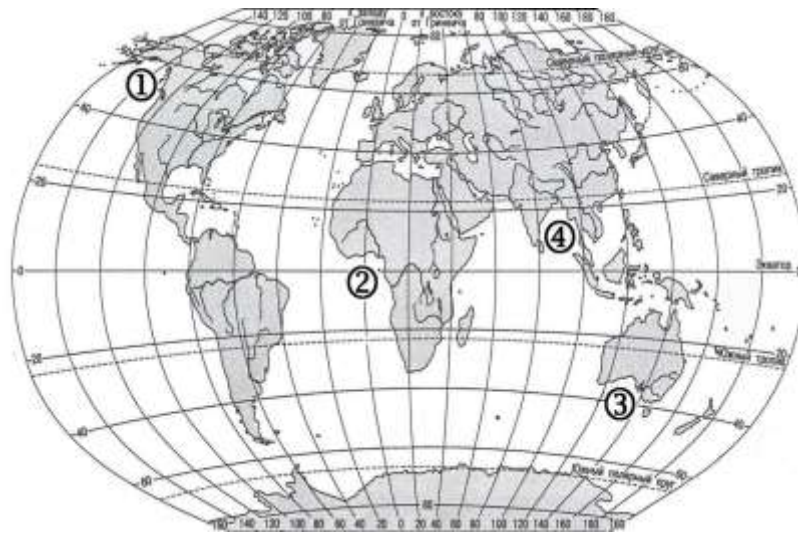
Запишите в таблицу получившуюся последовательность букв.

- А) А
- Б) Б
- В) В

Ответ:

--	--	--

**В-4. Установите соответствие между заливом и его расположением на карте, обозначенным цифрой.**



	ЗАЛИВ		РАСПОЛОЖЕНИЕ НА КАРТЕ
A) Гвинейский		1)	1
Б) Бенгальский		2)	2
В) Аляска		3)	3
		4)	4

Запишите в таблицу цифры, соответствующие выбранным ответам.

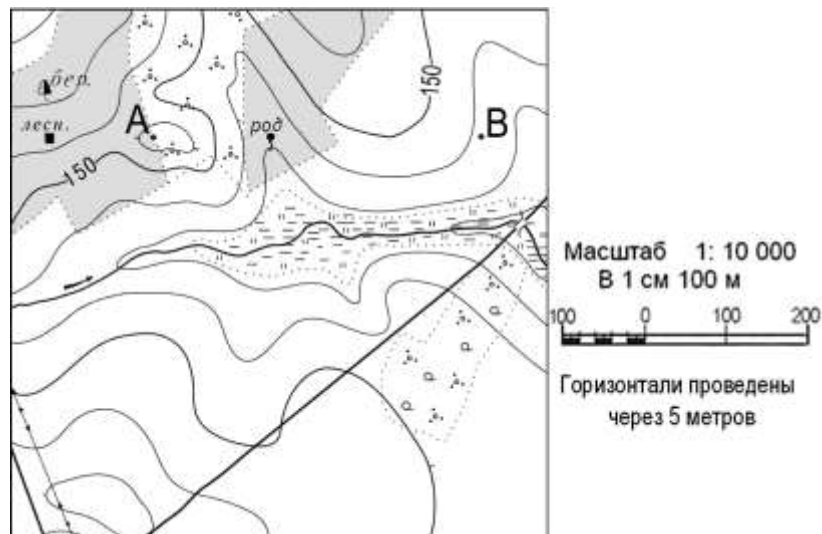
Ответ:	А	Б	В

### ЧАСТЬ С

**Задания С требуют развёрнутого ответа. Запишите сначала номер задания, а затем полный ответ**

**С-1.** Определите по карте расстояние на местности по прямой от родника до дома лесника. Полученный результат округлите до десятков метров. Ответ запишите цифрами.

Ответ: \_\_\_\_\_ м.



**С-2.** Определите страну по ее краткому описанию.

Это – одна из крупных по площади стран мира, имеет выход к трем океанам. На её территории находится одна из крайних точек материка, на котором она расположена. По суше граничит лишь с одной страной. Большая часть ее населения расположена вдоль южной границы. Страна богата разнообразными полезными ископаемыми, а также лесными, земельными, водными ресурсами.